





φύλλα εργασίας

Β' ΔΗΜΟΤΙΚΟΥ
Μαθηματικά
Κεφάλαιο 13ο



φύλλο εργασίας

Β' Δημοτικού - Μαθηματικά

Κεφάλαιο 13^ο: Γνωρίζω καλύτερα τα γεωμετρικά στερεά

Άσκηση 1η

Γράψε ποια αντικείμενα σου θυμίζουν γεωμετρικά στερεά.



κύβος: _____

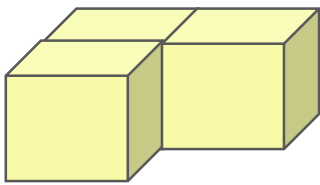
παραλληλεπίδο: _____

σφαίρα: _____

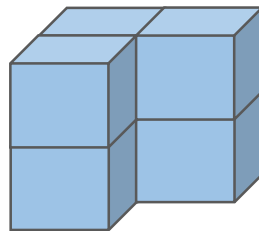
πυραμίδα: _____

Άσκηση 2η

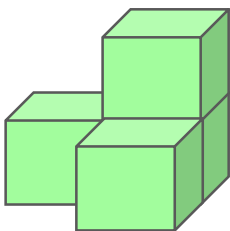
Από πόσους κύβους αποτελούνται τα παρακάτω;



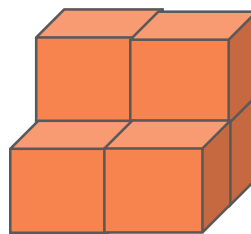
_____ κύβοι



_____ κύβοι



_____ κύβοι



_____ κύβοι



όροι χρήσης του υλικού

Όλο το περιεχόμενο του www.thrania.com στο οποίο περιλαμβάνονται ηλεκτρονικά σχολικά βοηθήματα στην υπηρεσία flipsnack, εκπαιδευτικά βίντεο στην υπηρεσία Youtube, φύλλα εργασίας σε μορφή pdf, εκπαιδευτικές αφίσες σε μορφή pdf, τα .pdf στην κατηγορία συμπληρωματικό υλικό και τα κείμενα στην κατηγορία με τις δραστηριότητες, αποτελούν πνευματική ιδιοκτησία του διαδικτυακού τόπου και της Μπέσιου Χριστίνας. Συνεπώς, κανένα από αυτά δεν μπορεί να αποτελέσει συνολικά ή εν μέρει αντικείμενο πώλησης, διαπραγμάτευσης, τροποποίησης, μετάδοσης ή/ και διανομής με κάθε τρόπο. Το υλικό του ιστοτόπου διατίθεται με άδεια Creative Commons Αναφορά Δημιουργού-Μη Εμπορική Χρήση-Όχι Παράγωγα Έργα 4.0 Διεθνές