





φύλλα εργασίας

Β' ΔΗΜΟΤΙΚΟΥ
Μαθηματικά
Κεφάλαιο 15ο



φύλλο εργασίας

Β' Δημοτικού - Μαθηματικά


Κεφάλαιο 15°: Μετρώ ευθύγραμμα τμήματα

Άσκηση 1η

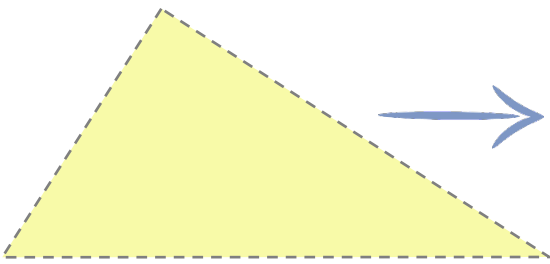
Μέτρησε την περίμετρο των σχημάτων.



Ας υπολογίσω
την περίμετρο...



Ας υπολογίσω
την περίμετρο...



Ας υπολογίσω
την περίμετρο...

Άσκηση 2η

Σχεδιάσε....

✓ Ένα ορθογώνιο παραλληλόγραμμο με περίμετρο 15 εκατοστά.

✓ Ένα τετράγωνο με περίμετρο 8 εκατοστά.





όροι χρήσης του υλικού

Όλο το περιεχόμενο του www.thrania.com στο οποίο περιλαμβάνονται ηλεκτρονικά σχολικά βοηθήματα στην υπηρεσία flipsnack, εκπαιδευτικά βίντεο στην υπηρεσία Youtube, φύλλα εργασίας σε μορφή pdf, εκπαιδευτικές αφίσες σε μορφή pdf, τα .pdf στην κατηγορία συμπληρωματικό υλικό και τα κείμενα στην κατηγορία με τις δραστηριότητες, αποτελούν πνευματική ιδιοκτησία του διαδικτυακού τόπου και της Μπέσιου Χριστίνας. Συνεπώς, κανένα από αυτά δεν μπορεί να αποτελέσει συνολικά ή εν μέρει αντικείμενο πώλησης, διαπραγμάτευσης, τροποποίησης, μετάδοσης ή/ και διανομής με κάθε τρόπο. Το υλικό του ιστοτόπου διατίθεται με άδεια Creative Commons Αναφορά Δημιουργού-Μη Εμπορική Χρήση-Όχι Παράγωγα Έργα 4.0 Διεθνές