

Ασκήσεις στα Μαθηματικά- Β' Δημοτικού

Κεφάλαιο 5. - Λύνω προβλήματα. Τα βήματα που ακολουθώ


Όνομα: _____

Επίθετο: _____

Ημερομηνία: _____

Τάξη: _____

1. Πόσα είναι όλα τα αμάξια;



ΣΥΝΟΛΙΚΑ ΑΜΑΞΙΑ=

Αν σε κάθε αμάξι βρίσκονται 2 οδηγοί, πόσοι είναι όλοι οι οδηγοί;

2. Στα γενέθλια της Μαίρης όλο οι φίλοι έφαγαν καραμέλες. Πόσες έφαγε όμως ο καθένας;



Λουκάς

Έφαγε 3 περισσότερες από τη Ζέτα.



Βασίλης

Έφαγε 6 καραμέλες.



Χαρά

Έφαγε 2 λιγότερες από τον Βασίλη.




Ζέτα

Έφαγε 2 περισσότερες από τη Χαρά.


3. Ποιοι αριθμοί που τελειώνουν σε 5 βρίσκονται μεταξύ του 20 και του 80;




4. Πόσα μέτρα είναι κάθε δέντρο;



ύψος = ... 4 ... μ.



1 μ. λιγότερο από το Α.
ύψος = μ.



4 μ. περισσότερα από το Β.
ύψος = μ.