



ΘΡΑΝΙΑ

www.thrania.com

Χριστίνα Μπέσιου

φύλλα εργασίας

ΜΑΘΗΜΑΤΙΚΑ

Κεφάλαιο 10ο

ΦΥΛΛΟ ΕΡΓΑΣΙΑΣ

Μαθηματικά Α' Δημοτικού

Κεφάλαιο 10^ο: Οι αριθμοί από το 6 μέχρι το 10 (1)

ονοματεπώνυμο:

www.thrania.com



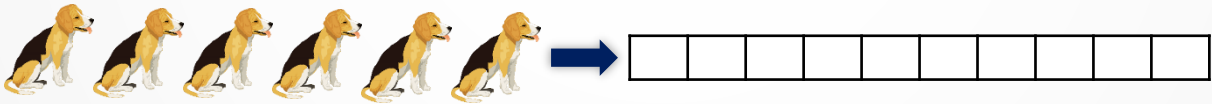
ηρώτη άσκηση

Γράψε πόσα φρούτα βλέπεις σε κάθε ράφι.



δεύτερη άσκηση

Χρωμάτισε όσα τετραγωνάκια πρέπει για να δείξεις πόσα είναι τα ζώα.



τρίτη άσκηση

Κάνε τις πράξεις.

5 και 1 κάνουν μαζί _____ 6 και 1 κάνουν μαζί _____

5 και 2 κάνουν μαζί _____ 6 και 2 κάνουν μαζί _____

5 και 3 κάνουν μαζί _____ 7 και 1 κάνουν μαζί _____



ΘΡΑΝΙΑ

www.thrania.com

εμπαιδευτικό υλικό
για το Δημοτικό

επιμένουμε στα

ΧΡΟΜΑΤΑ!

Όροι χρήσης του παρόντος ηλεκτρονικού αρχείου

Δεν μπορεί να αποτελέσει συλλογικά ή εν μέρει αντικείμενο πώλησης, διαπραγμάτευσης, τροποποίησης, μετάδοσης ή και διανομής με κάθε τρόπο. Το υλικό του ιστοτόπου διατίθεται με άδεια Creative Commons Αναφορά Δημιουργού-Μη Εμπορική Χρήση-Όχι Παράγωγα Έργα 4.0 Διεθνή.

Επιτρέπεται σε άλλους διαδικτυακούς τόπους ΜΟΝΟ η αποσπασματική αναδημοσίευση εκπαιδευτικού υλικού/αρχείου, με την προϋπόθεση να συνοδεύονται και από τους σχετικούς υπερσυνδέσμους που ανακατευθύνουν στο www.thrania.com. Το υλικό διατίθεται αφιλοκερδώς για μη εμπορική προσωπική χρήση.