



ΘΡΑΝΙΑ

[www.thrania.com](http://www.thrania.com)

Χριστίνα Μπέσιου

φύλλα εργασίας

ΜΑΘΗΜΑΤΙΚΑ

Κεφάλαιο 15ο

# ΨΥΛΛΟ ΕΡΓΑΣΙΑΣ

## Μαθηματικά Α' Δημοτικού

### Κεφάλαιο 15<sup>ο</sup>: Προσθήματα


ονοματεπώνυμο:

www.thrania.com

#### πρώτο πρόβλημα

Η κυρία Μαρία κρέμασε στον τοίχο αυτά τα διακοσμητικά. Πόσες καρδούλες βλέπεις στα δύο διακοσμητικά;


$$\underline{\quad} + \underline{\quad} = \underline{\quad}$$



#### δεύτερο πρόβλημα

Μέσα στο ένα μπαούλο είναι κρυμμένα τρεις στολές και στο άλλο δύο στολές. Πόσες στολές υπάρχουν συνολικά;


$$\underline{\quad} + \underline{\quad} = \underline{\quad}$$



#### τρίτο πρόβλημα

Πόσα ψαράκια πρέπει να βγάλω από τη γεμάτη γυάλα στην άδεια για να έχουν τον ίδιο αριθμό ψαριών;

Πρέπει να βγάλω  ψάρια.





ΘΡΑΝΙΑ

[www.thrania.com](http://www.thrania.com)

εμπαιδευτικό υλικό  
για το Δημοτικό

επιμένουμε στα

ΧΡΟΜΑΤΑ!

## Όροι χρήσης του παρόντος ηλεκτρονικού αρχείου

Δεν μπορεί να αποτελέσει συγολικά ή εν μέρει αντικείμενο πώλησης, διαπραγμάτευσης, τροποποίησης, μετάδοσης ή και διανομής με κάθε τρόπο. Το υλικό του ιστοτόπου διατίθεται με άδεια Creative Commons Αναφορά Δημιουργού-Μη Εμπορική Χρήση-Όχι Παράγωγα Έργα 4.0 Διεθές.

Επιτρέπεται σε άλλους διαδικτυακούς τόπους ΜΟΝΟ η αποσπασματική αναδημοσίευση εκπαιδευτικού υλικού/αρχείου, με την προϋπόθεση να συνοδεύονται και από τους σχετικούς υπερσυνδέσμους που ανακατευθύνουν στο [www.thrania.com](http://www.thrania.com). Το υλικό διατίθεται αφιλοκερδώς για μη εμπορική προσωπική χρήση.