



# Τετράδια

Πριν και μετά

by Kristina Bessiou

## **Όροι χρήσης του παρόντος ηλεκτρονικού αρχείου**

Δεν μπορεί να αποτελέσει συνολικά ή εν μέρει αντικείμενο πώλησης, διαπραγμάτευσης, τροποποίησης, μετάδοσης ή/ και διανομής με κάθε τρόπο. Το υλικό του ιστοτόπου διατίθεται με άδεια Creative Commons Αναφορά Δημιουργού-Μη Εμπορική Χρήση-Όχι Παράγωγα Έργα 4.0 Διεθνές. Το υλικό διατίθεται αφιλοκερδώς για μη εμπορική προσωπική χρήση.





## ΠΡΙΝ ΚΑΙ ΜΕΤΑ

Πίνακες εξάσκησης για τους  
προηγούμενους και επόμενους  
αριθμούς



;	14	;
23	24	25
;	34	;



# ΠΡΙΝ και ΜΕΤΑ

Συμπλήρωσε τα κενά που υπάρχουν στους παρακάτω πίνακες με τους προηγούμενους και επόμενους αριθμούς.



ΦΥΛΟ ΕΡΓΑΣΙΑΣ !




24		
	35	
		46

		9
	18	



	79	

	56	
		67



33		
	44	

		72
	81	



# ΠΡΙΝ και ΜΕΤΑ

Συμπλήρωσε τα κενά που υπάρχουν στους παρακάτω πίνακες με τους προηγούμενους και επόμενους αριθμούς.



ΦΥΛΛΟ ΕΡΓΑΣΙΑΣ 2




78		
	89	

		31
	40	



	13	
22		

	70	
		81



		55
	64	

11		
	22	



# ΠΡΙΝ και ΜΕΤΑ

Συμπλήρωσε τα κενά που υπάρχουν στους παρακάτω πίνακες με τους προηγούμενους και επόμενους αριθμούς.



ΦΥΛΟ ΕΡΓΑΣΙΑΣ 3




46		
	57	

	30	
39		

	49	
58		

	82	
		93



		68
	77	

	11	
20		



# ΠΡΙΝ και ΜΕΤΑ

Συμπλήρωσε τα κενά που υπάρχουν στους παρακάτω πίνακες με τους προηγούμενους και επόμενους αριθμούς.



ΦΥΛΟ ΕΡΓΑΣΙΑΣ 4




	122	
131		

		135
	144	

		141
	150	

91		
	102	



88		
	99	

	113	
		124



# ΠΡΙΝ και ΜΕΤΑ

Συμπλήρωσε τα κενά που υπάρχουν στους παρακάτω πίνακες με τους προηγούμενους και επόμενους αριθμούς.



ΦΥΛΟ ΕΡΓΑΣΙΑΣ 5



	188	
		199


125		
	136	

162		
	173	

	160	
		171

		126
	135	

		171
	180	



# ΠΡΙΝ και ΜΕΤΑ

Συμπλήρωσε τα κενά που υπάρχουν στους παρακάτω πίνακες με τους προηγούμενους και επόμενους αριθμούς.



ΦΥΛΟ ΕΡΓΑΣΙΑΣ 6



	203	


	244	

	250	

	268	

	233	

	295	





# ΠΡΙΝ και ΜΕΤΑ

Συμπλήρωσε τα κενά που υπάρχουν στους παρακάτω πίνακες με τους προηγούμενους και επόμενους αριθμούς.



ΦΥΛΟ ΕΡΓΑΣΙΑΣ 7




	312	

	356	

	338	

	368	



	350	

	390	



# ΠΡΙΝ και ΜΕΤΑ

Συμπλήρωσε τα κενά που υπάρχουν στους παρακάτω πίνακες με τους προηγούμενους και επόμενους αριθμούς.



ΦΥΛΟ ΕΡΓΑΣΙΑΣ 8




	450	

	468	

	444	

	432	



	476	

	492	



# ΠΡΙΝ και ΜΕΤΑ

Συμπλήρωσε τα κενά που υπάρχουν στους παρακάτω πίνακες με τους προηγούμενους και επόμενους αριθμούς.



ΦΥΛΟ ΕΡΓΑΣΙΑΣ 9




	501	

	525	

	538	

	549	



	567	

	591	



# ΠΡΙΝ και ΜΕΤΑ

Συμπλήρωσε τα κενά που υπάρχουν στους παρακάτω πίνακες με τους προηγούμενους και επόμενους αριθμούς.



ΦΥΛΛΟ ΕΡΓΑΣΙΑΣ 10




	610	

	627	

	645	

	667	



	689	

	693	



# ΠΡΙΝ και ΜΕΤΑ

Συμπλήρωσε τα κενά που υπάρχουν στους παρακάτω πίνακες με τους προηγούμενους και επόμενους αριθμούς.



ΦΥΛΛΟ ΕΡΓΑΣΙΑΣ II




	708	

	722	

	744	

	751	



	768	

	795	



# ΠΡΙΝ και ΜΕΤΑ

Συμπλήρωσε τα κενά που υπάρχουν στους παρακάτω πίνακες με τους προηγούμενους και επόμενους αριθμούς.



ΦΥΛΛΟ ΕΡΓΑΣΙΑΣ 12




	802	

	814	

	828	

	835	



	859	

	888	



# ΠΡΙΝ και ΜΕΤΑ

Συμπλήρωσε τα κενά που υπάρχουν στους παρακάτω πίνακες με τους προηγούμενους και επόμενους αριθμούς.



ΦΥΛΛΟ ΕΡΓΑΣΙΑΣ 13




	900	

	915	

	926	

	944	



	957	

	986	



# ΠΡΙΝ και ΜΕΤΑ

Συμπλήρωσε τα κενά που υπάρχουν στους παρακάτω πίνακες με τους προηγούμενους και επόμενους αριθμούς.



ΦΥΛΛΟ ΕΡΓΑΣΙΑΣ 14



	999	

	1.010	

	1.160	

	1.485	



	1.689	

	1.965	





# ΠΡΙΝ και ΜΕΤΑ

Συμπλήρωσε τα κενά που υπάρχουν στους παρακάτω πίνακες με τους προηγούμενους και επόμενους αριθμούς.



ΦΥΛΛΟ ΕΡΓΑΣΙΑΣ 15




	2.590	

	3.758	

	4.769	

	7.788	



	8.501	

	9.893	



# ΠΡΙΝ και ΜΕΤΑ

Συμπλήρωσε τα κενά που υπάρχουν στους παρακάτω πίνακες με τους προηγούμενους και επόμενους αριθμούς.



ΦΥΛΛΟ ΕΡΓΑΣΙΑΣ 16




	3.332	

	4.404	

	5.000	

	6.788	



	8.999	

	9.111	



# ΠΡΙΝ και ΜΕΤΑ

Συμπλήρωσε τα κενά που υπάρχουν στους παρακάτω πίνακες με τους προηγούμενους και επόμενους αριθμούς.



ΦΥΛΛΟ ΕΡΓΑΣΙΑΣ 17



	10	
	20	
	30	

	10	
	20	
	30	

	10	
	20	
	30	

	10	
	20	
	30	

	10	
	20	
	30	

	10	
	20	
	30	

