

Ασκήσεις στα Μαθηματικά - Α' Δημοτικού

Κεφάλαιο 2^ο - Γεωμετρικά σχήματα

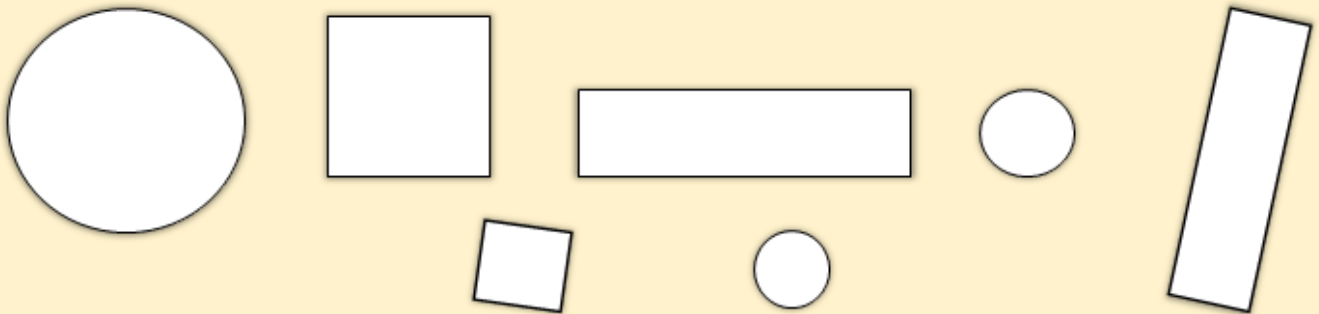
Όνομα: _____

Επίθετο: _____

Ημερομηνία: _____

Τάξη: _____

1. Ζωγράφισε με μπλε τους κόκκους, με κόκκινο τα τετράγωνα, με κίτρινο τα ορθογώνια.



2. Αντιστοίχισε τα σχήματα με τις ονομασίες τους.

τρίγωνο


κύβος

τετράγωνο



κύκλος

ορθογώνιο

κύλινδρος



3. Σχεδιάσε έναν κύκλο μέσα στο τρίγωνο και ένα τετράγωνο έξω από το ορθογώνιο.



4. Βρες στην εικόνα 4 γεωμετρικά σχήματα.

