





φύλλα εργασίας

Β' ΔΗΜΟΤΙΚΟΥ
Μαθηματικά
Κεφάλαιο 17ο



φύλλο εργασίας

Β' Δημοτικού - Μαθηματικά

Κεφάλαιο 17^ο: Υπολογίζω με πολλούς τρόπους μέχρι το 100

άσκηση 1η

Κάνε τις προσθέσεις με το νου με τον πιο εύκολο τρόπο.

$15 + 5 + 8 + 2 = \square$

$29 + 7 + 43 + 1 = \square$

$21 + 23 + 9 + 7 = \square$

$54 + 6 + 2 + 8 = \square$

$14 + 6 + 8 + 22 = \square$

$35 + 5 + 22 + 8 = \square$

$45 + 12 + 8 + 5 = \square$

$9 + 51 + 16 + 4 = \square$

άσκηση 2η

Ανάλυσε τον αριθμό σε 3 προσθετέους όπως στο παράδειγμα.

$30 = 10 + 15 + 5$

$30 = \square + \square + 8$

$20 = \square + 7 + \square$

$60 = 35 + \square + \square$

$30 = 18 + \square + \square$

$50 = 24 + \square + \square$

$50 = \square + \square + 19$

$20 = \square + \square + 9$

$40 = 21 + \square + \square$

$40 = \square + 12 + \square$

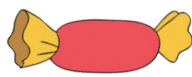
άσκηση 3η

Λύσε το παρακάτω πρόβλημα.

Έχω 1 ευρώ στη τσέπη μου! Θέλω να αγοράσω καραμέλες με αυτά τα χρήματα. Υπάρχουν πολλές διαφορετικές καραμέλες. Βοήθησέ με να διαλέξω αυτές που θα κοστίζουν συνολικά όσο και τα χρήματά μου. Μπορώ να επιλέξω μόνο μία φορά την κάθε καραμέλα. Χρωμάτισε τις ετικέτες αυτών που θα επιλέξεις.



12 λεπτά



16 λεπτά



12 λεπτά



22 λεπτά



55 λεπτά



36 λεπτά



24 λεπτά



18 λεπτά

Ας εξηγήσω γιατί τα διάλεξα: _____



όροι χρήσης του υλικού

Όλο το περιεχόμενο του www.thrania.com στο οποίο περιλαμβάνονται ηλεκτρονικά σχολικά βοηθήματα στην υπηρεσία flipsnack, εκπαιδευτικά βίντεο στην υπηρεσία Youtube, φύλλα εργασίας σε μορφή pdf, εκπαιδευτικές αφίσες σε μορφή pdf, τα .pdf στην κατηγορία συμπληρωματικό υλικό και τα κείμενα στην κατηγορία με τις δραστηριότητες, αποτελούν πνευματική ιδιοκτησία του διαδικτυακού τόπου και της Μπέσιου Χριστίνας. Συνεπώς, κανένα από αυτά δεν μπορεί να αποτελέσει συνολικά ή εν μέρει αντικείμενο πώλησης, διαπραγμάτευσης, τροποποίησης, μετάδοσης ή/ και διανομής με κάθε τρόπο. Το υλικό του ιστοτόπου διατίθεται με άδεια Creative Commons Αναφορά Δημιουργού-Μη Εμπορική Χρήση-Όχι Παράγωγα Έργα 4.0 Διεθνές